

NP Geografi Ämnesprov, läsår 15/16 Del 2

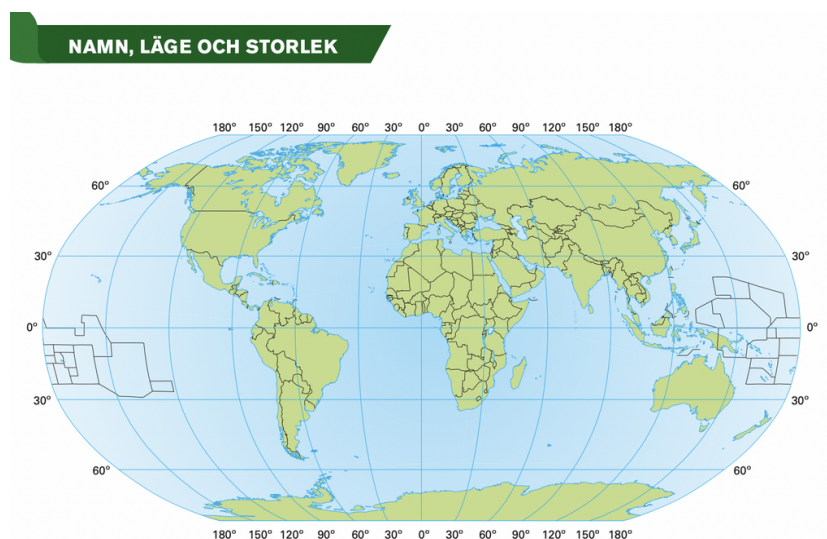
Del 2



Bedömningsstöd finns här:

https://www.natprov.edu.uu.se/digitalAssets/961/c_961194-l_3-k_ap-9-2016-ge-bedomningsanvisningar.pdf

Fråga 14a



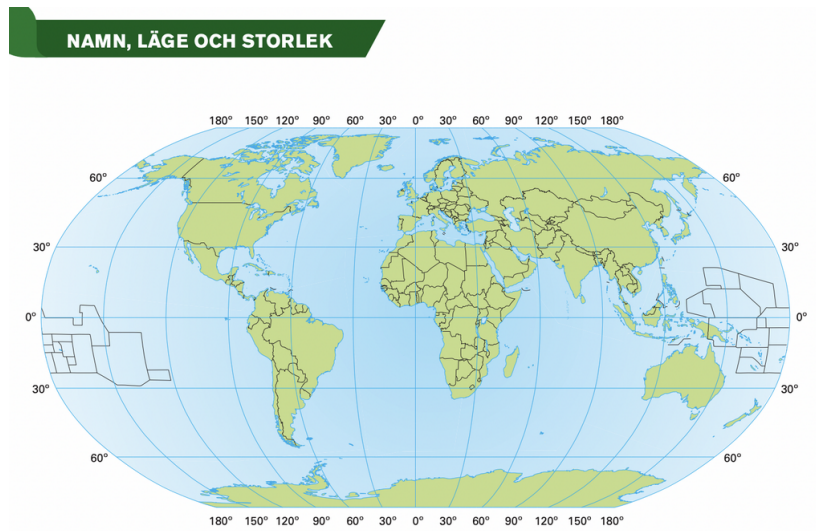
Svara på frågorna genom att kryssa för ett alternativ.

Var ligger Klippiga bergen?

- I Asien
- I Nordamerika

- I Afrika
- I Europa

Fråga 14b

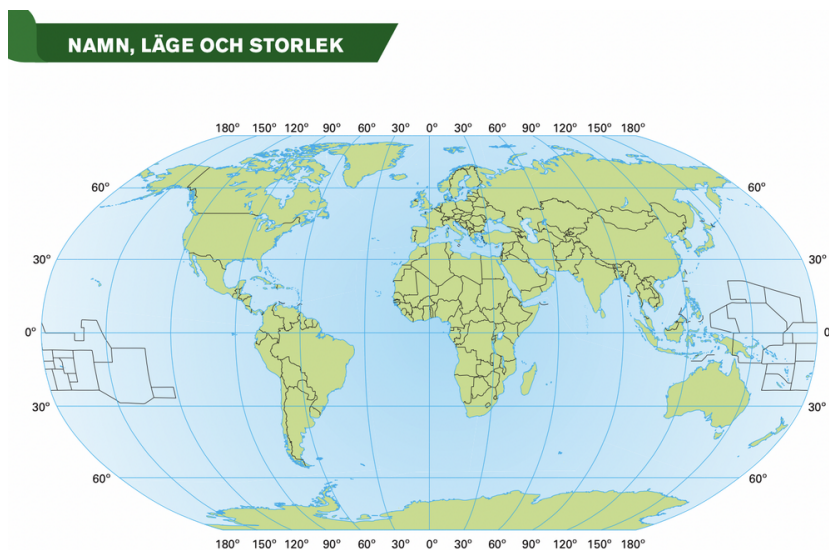


Svara på frågorna genom att kryssa för ett alternativ.

Vilket land har kust mot Medelhavet?

- Libyen
- Portugal
- Rumänien
- Sudan

Fråga 14c

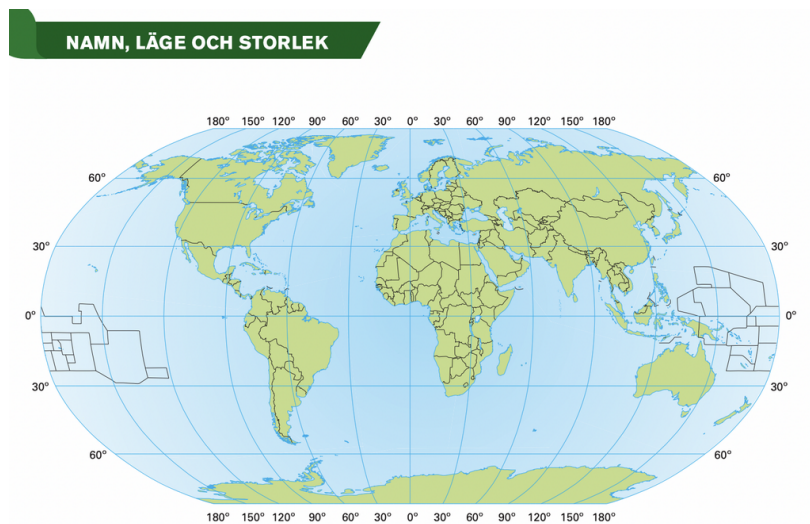


Svara på frågorna genom att kryssa för ett alternativ.

Vilken ö-grupp ligger i Atlanten?

- Galapagosöarna
- Hawaiiöarna
- Maldiverna
- Azorerna

Fråga 14d

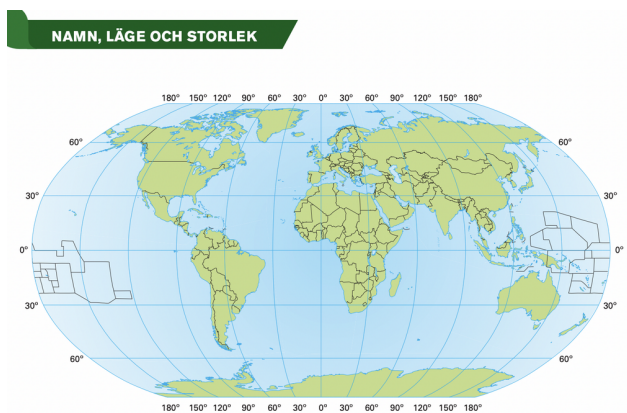


Svara på frågorna genom att kryssa för ett alternativ.

Vilket land har gräns mot Kina?

- Iran
- Mongoliet
- Thailand
- Sri Lanka

Fråga 14e

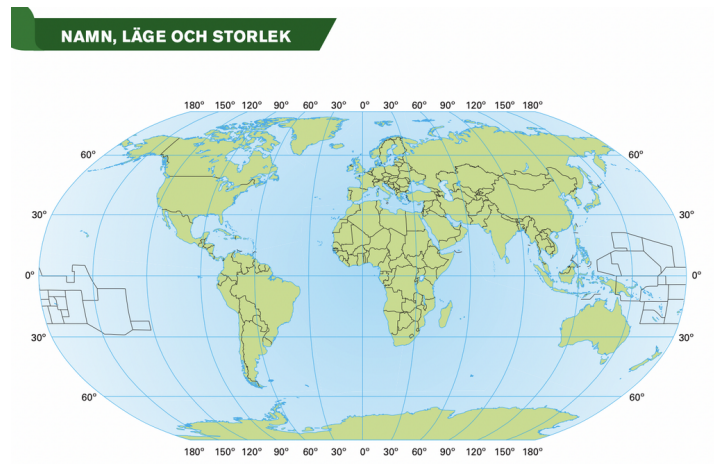


Svara på frågorna genom att kryssa för ett alternativ.

Vilken flod mynnar ut i Mexikanska golfen?

- Amazonfloden
- Coloradofloden
- Paraná
- Mississippifloden

Fråga 14f

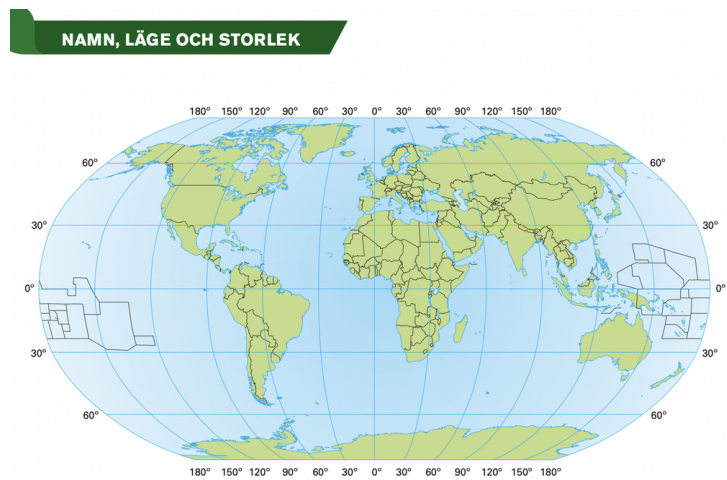


Svara på frågorna genom att kryssa för ett alternativ.

Vilken huvudstad ligger nordligast?

- Canberra
- Washington DC
- Nairobi
- Montevideo

Fråga 14g

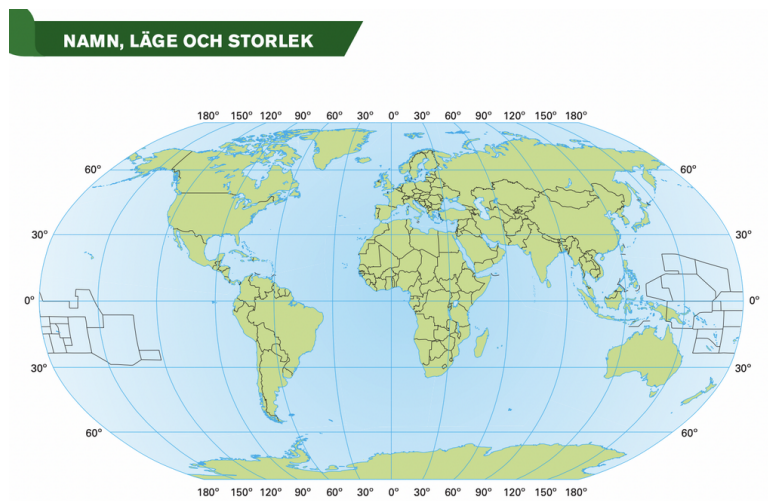


Svara på frågorna genom att kryssa för ett alternativ.

Var ligger Stora barriärrevet?

- Längs Australiens kust
- I Victoriasjön
- Vid Nilens mynning
- I Persiska viken

Fråga 14h

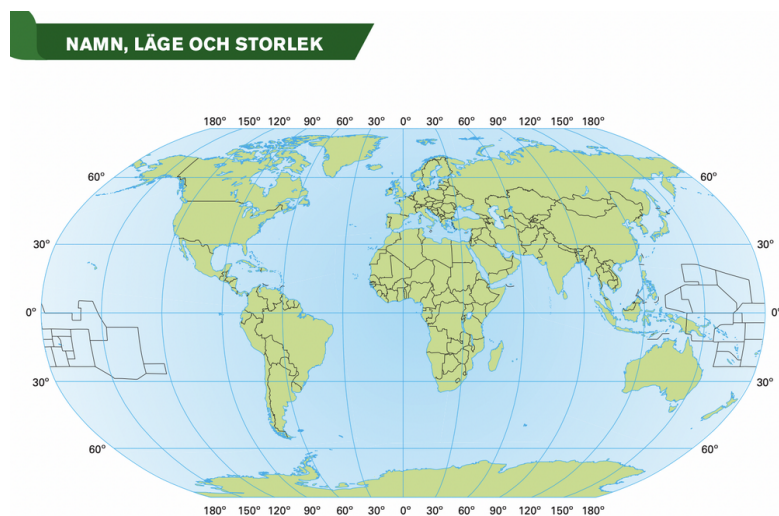


Svara på frågorna genom att kryssa för ett alternativ.

Vilket land ingår i Mellanöstern?

- Vietnam
- Israel
- Japan
- Peru

Fråga 14i

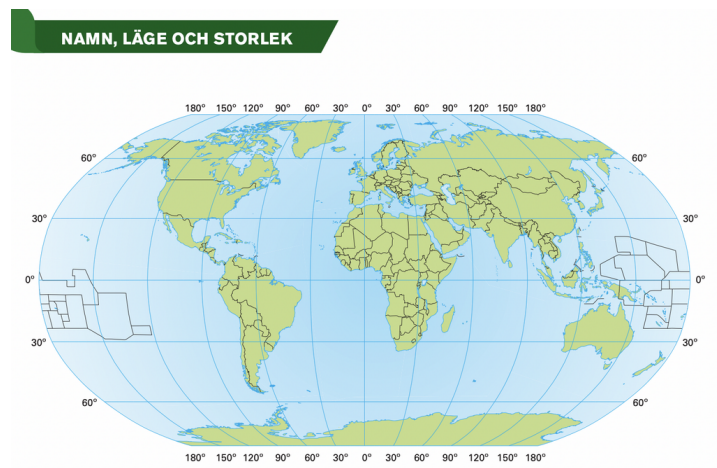


Svara på frågorna genom att kryssa för ett alternativ.

Vilket land har längst kust?

- Indien
- Argentina
- Kina
- Ryssland

Fråga 14j

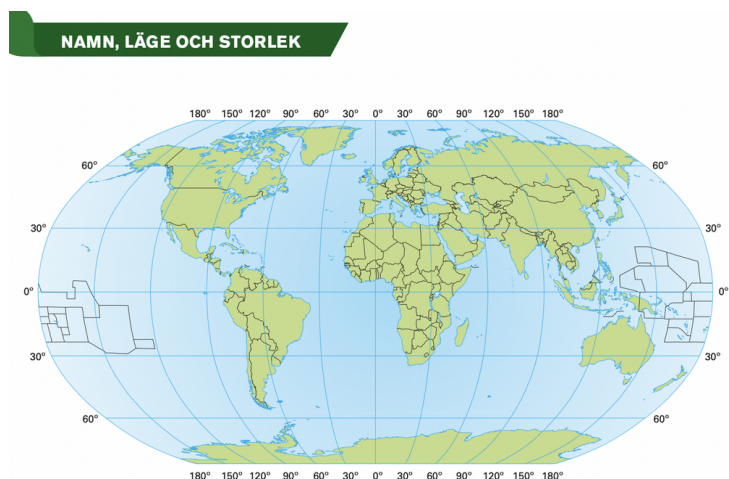


Svara på frågorna genom att kryssa för ett alternativ.

Vilket land i Afrika ligger söder om Sahara?

- Egypten
- Tunisien
- Marocko
- Mocambique

Fråga 14k

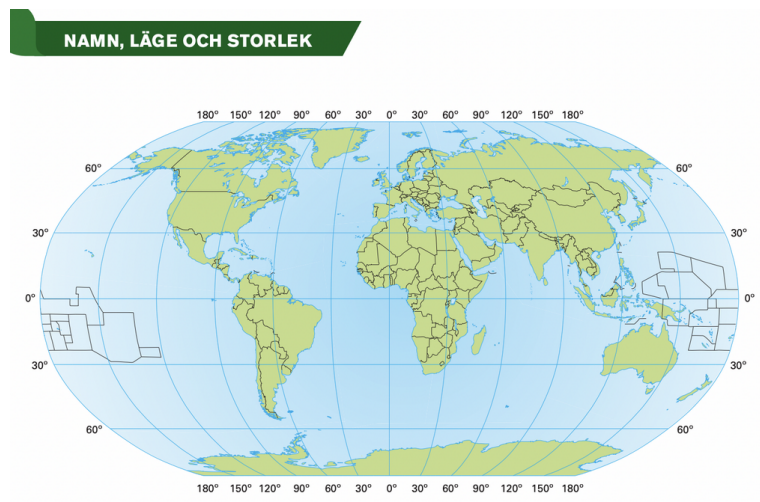


Svara på frågorna genom att kryssa för ett alternativ.

Vilken huvudstad ligger längst västerut?

- Dublin
- Köpenhamn
- Ankara
- Rom

Fråga 14k

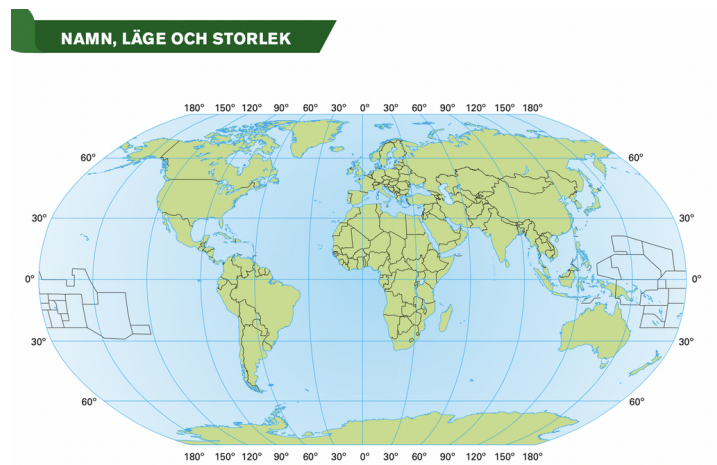


Svara på frågorna genom att kryssa för ett alternativ.

Vid vilken bergskedja ligger Atacamaöknen?

- Himalaya
- Kaukasus
- Atlasbergen
- Anderna

Fråga 14m

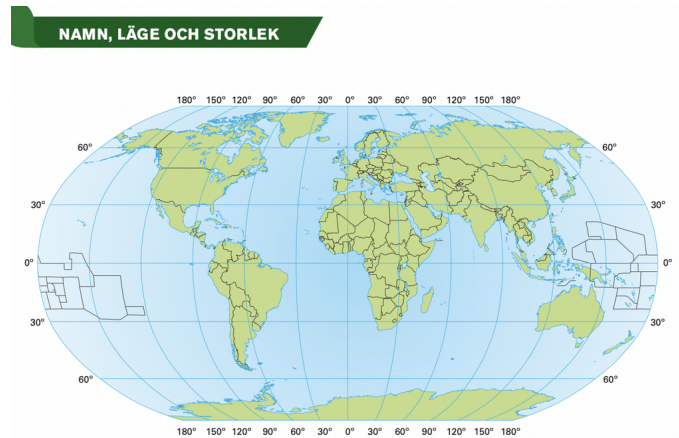


Svara på frågorna genom att kryssa för ett alternativ.

Vilken sjö är störst i Sverige?

- Vänern
- Vättern
- Mälaren
- Storsjön

Fråga 14n



Svara på frågorna genom att kryssa för ett alternativ.

Vilket land ligger vid ekvatorn?

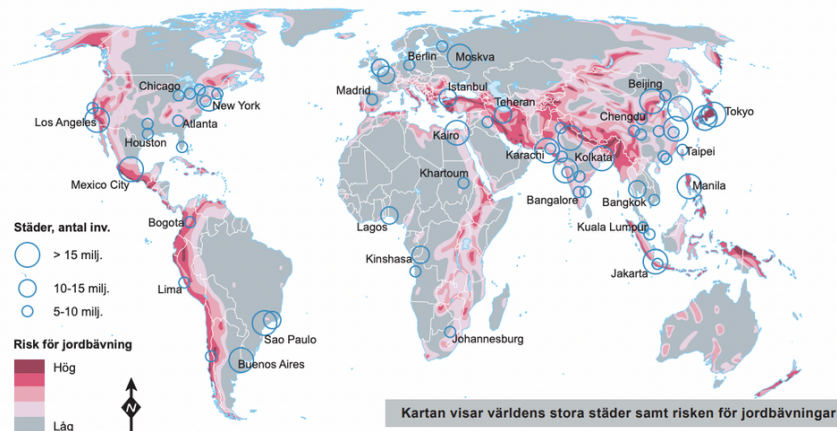
- Mexiko
- Madagaskar
- Indonesien
- Argentina

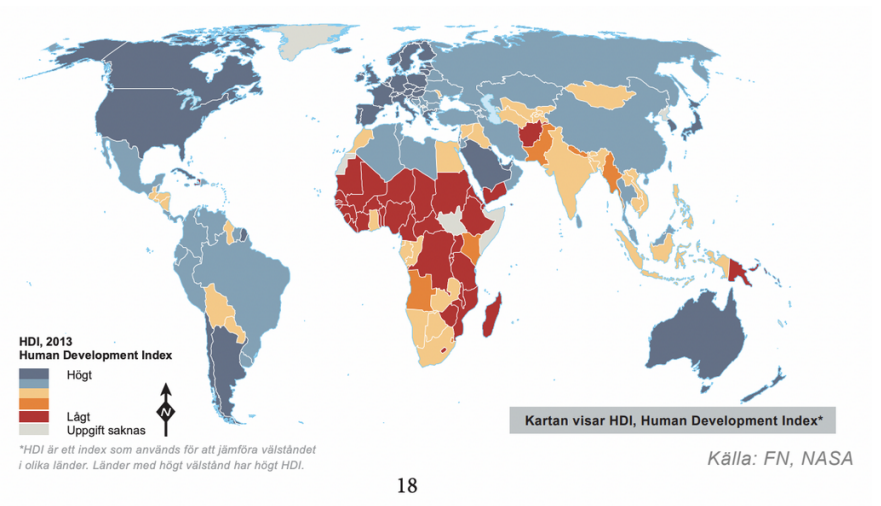
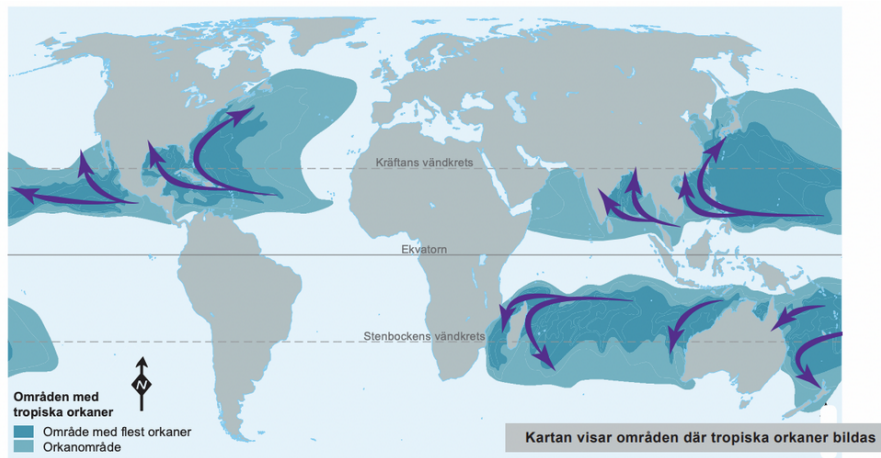
Fråga 15

Max poäng: 3

SÅRBARA STÄDER

Städer är sårbara för naturkatastrofer. Det beror bland annat på att många människor bor på en relativt liten yta och att städerna är känsliga för störningar i infrastrukturen.





Alla städer är utsatta för risker av olika slag. På vissa platser är riskerna särskilt många eller särskilt stora.

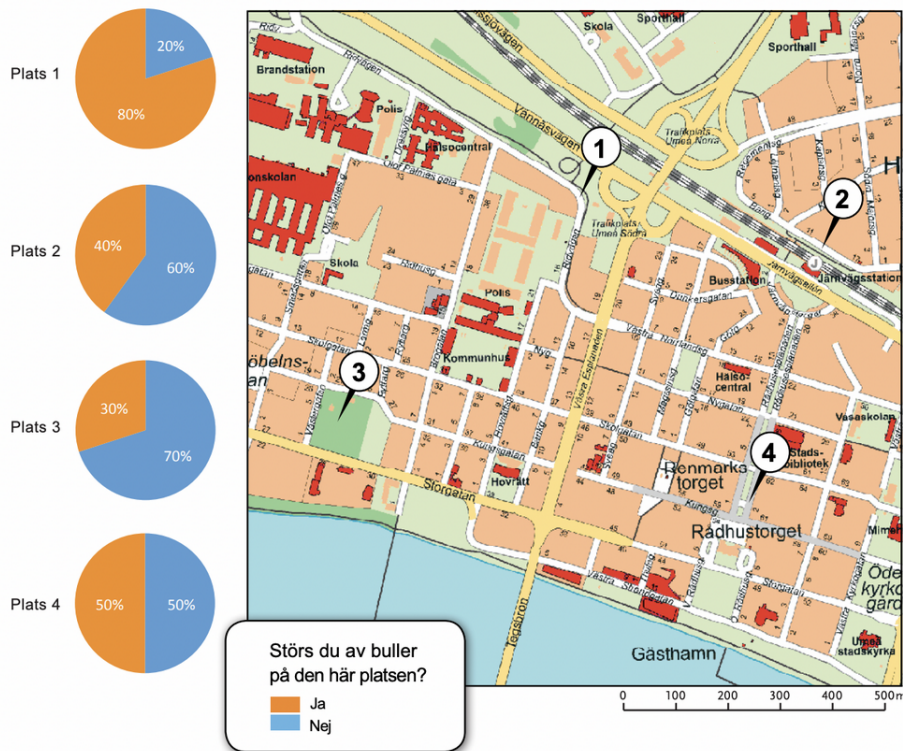
Studera kartorna och ge exempel på en stad som är särskilt sårbar.

Varför är denna stad särskilt sårbar? Använd informationen från alla kartorna i din förklaring.

Fråga 16abc

EN FÄLTSTUDIE OM BULLER

Klass 9B i Vasaskolan har gjort en fältstudie för att undersöka störande buller på olika platser i Umeå. De intervjuade 10 personer kl. 10.00 på fyra olika platser i staden. De ställde frågan: *Störs du av buller på den här platsen?* Här ser du deras resultat:



Studera klassens resultat och kryssa för om påståendet stämmer

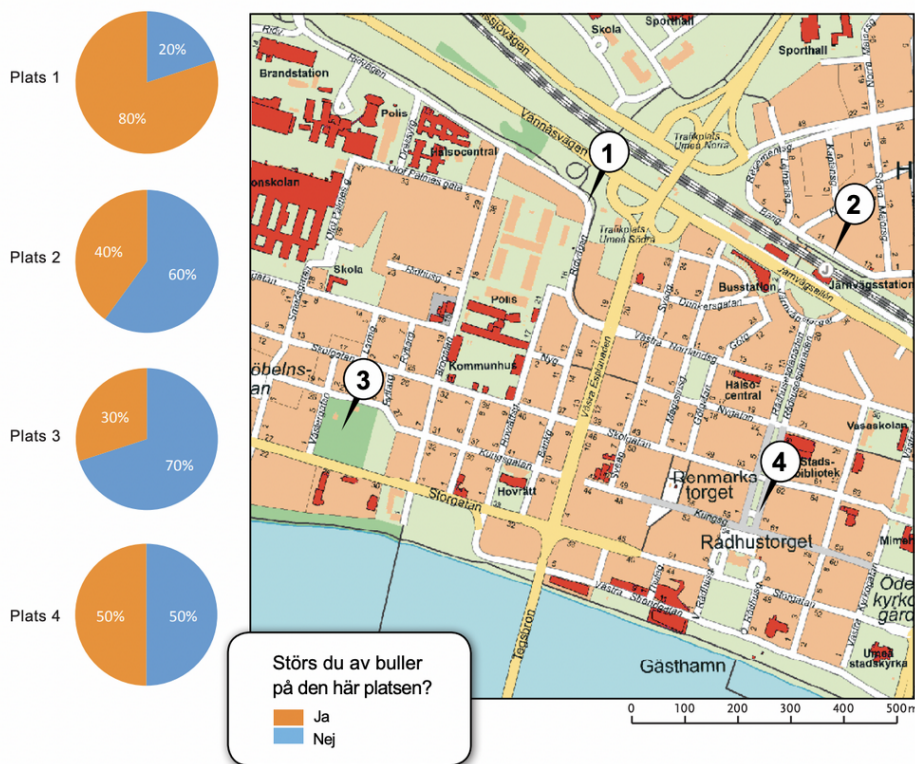
	Stämmer	Stämmer inte
a) Plats 1 är den plats där flest människor störs av buller.		
b) Det är fler människor som störs av buller än som inte störs av buller på alla platser.		
c) Den plats som ligger vid en järnvägsstation är den plats där flest människor störs av buller.		

- Alternativ a) stämmer
- Alternativ b) stämmer
- Alternativ c) stämmer

Fråga 16d


EN FÄLTSTUDIE OM BULLER

Klass 9B i Vasaskolan har gjort en fältstudie för att undersöka störande buller på olika platser i Umeå. De intervjuade 10 personer kl. 10.00 på fyra olika platser i staden. De ställde frågan: *Störs du av buller på den här platsen?* Här ser du deras resultat:



Klassen använde sig av satellitbilder för att bestämma vilka platser de skulle undersöka. Här ser du tre av platserna.

d) Vilken av platserna på kartan (1- 4) visar satellitbilderna? Skriv rätt plats under bilderna.



Plats 1. _____

Plats 2. _____

Plats 3. _____

Fråga 17

Max poäng: 3

På vilka sätt kan klassen förändra fältstudien för att få bättre information om störande buller på olika platser i Umeå? Ge tre förslag och motivera (förklara varför).